


Guía de Geometría: Conocer los ángulos

SELECCIÓN MÚLTIPLE:

Encierra la alternativa correcta. Puedes usar una escuadra para comprobar tus respuestas.

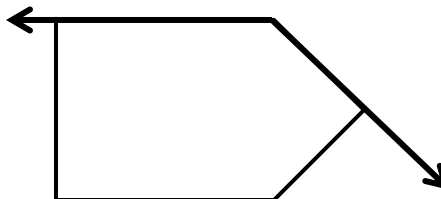
1. ¿Cuántos ángulos rectos tiene la siguiente figura?

- a) 3
- b) 4
- c) 5
- d) 6



2. Observa el ángulo destacado en la figura, ¿cómo es?

- a) Ángulo recto
- b) Mayor a un ángulo recto
- c) Menor a un ángulo recto
- d) Ángulos paralelos

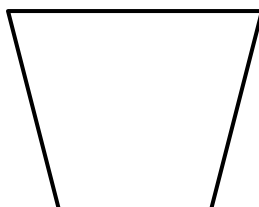


3. ¿Cuál de las siguientes figuras 2D tiene sólo ángulos rectos?

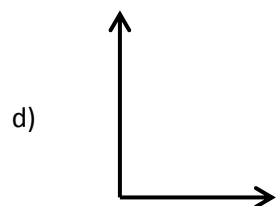
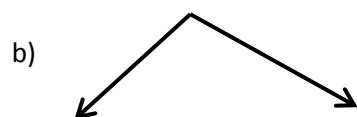
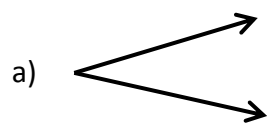
- a) Triángulo
- b) Cuadrado
- c) Pentágono
- d) Círculo

4. ¿Cuántos ángulos de más de 90° tiene la siguiente figura?

- a) 0
- b) 1
- c) 2
- d) 3

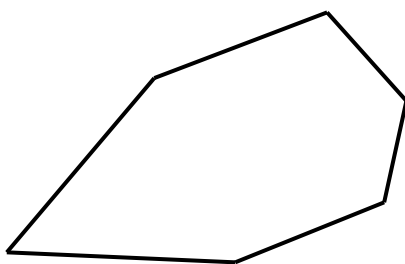


5. ¿Cuál de los siguientes ángulos mide menos de 45° ?



6. ¿Cuántos ángulos tiene la siguiente figura?

- a) 4
- b) 5
- c) 6
- d) 7



7. ¿Cuántos ángulos menores a 90° tiene la siguiente figura?

- a) 0
- b) 2
- c) 3
- d) 4

